

學校：

班級：

座號：

姓名：

一、選擇題，共 9 題，每題 4 分。

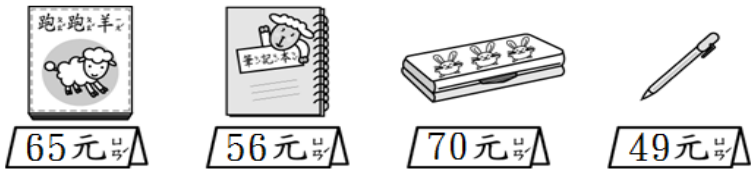
※請在正確選項前打勾，並請畫記清楚，不要超過格子。

範例：下列哪一個選項是這份考卷正確的作答方法？

(1) 打勾勾 (2) 寫數字

(3) 畫圈圈 (4) 畫叉叉

1. 下面哪一個物品最貴？



- (1) (2)
- (3) (4)


2. 下面哪一個算式的答案正確？

- (1) $7+8=12$ (2) $4+6=11$
- (3) $9+0=9$ (4) $16-9=8$

3. 媽媽做了 11 個布丁，吃掉 5 個後，還剩下多少個？

- (1) 5 個 (2) 6 個
- (3) 7 個 (4) 16 個

4. 一盒雞蛋有 10 顆，下面有幾顆雞蛋？



- (1) 47 顆 (2) 64 顆
- (3) 70 顆 (4) 74 顆

5. 花店老闆把 10 朵花綁成一束，38 朵花可以綁成幾束又幾朵？

- (1) 1 束又 8 朵 (2) 3 束又 8 朵
- (3) 3 束又 9 朵 (4) 4 束又 8 朵

6. 下面哪一個數的個位數字是 5？

- (1) 23 (2) 45
- (3) 50 (4) 51

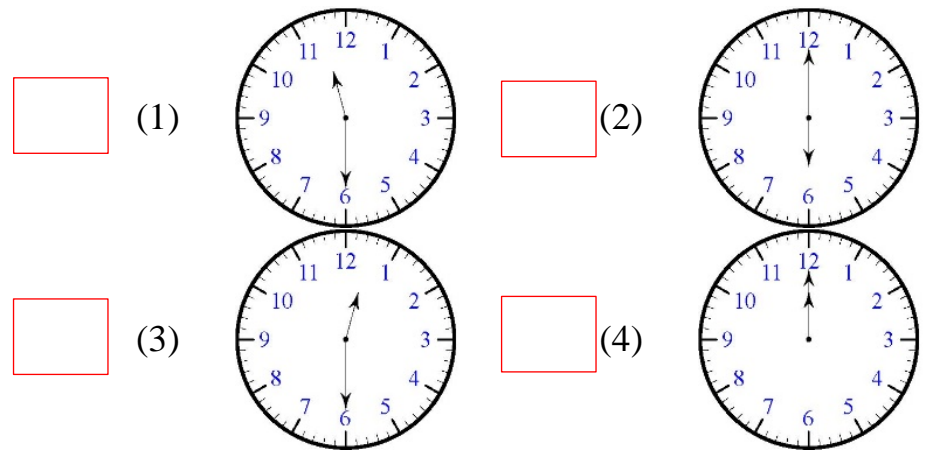
7. 下面哪一個時刻最有可能吃晚餐？

- (1) 晚上 6 點半
- (2) 上午 6 點半
- (3) 中午 12 點
- (4) 下午 1 點半

8. 「公園裡有 6 張椅子，有 9 個人要坐，一個人坐一張椅子，請問椅子夠不夠？多或少幾張？」下面哪個算式和答案都正確？

- (1) $9-6=3$ ，答：夠，多 3 張椅子
- (2) $6-9=3$ ，答：不夠，少 3 張椅子
- (3) $9-6=3$ ，答：不夠，少 3 張椅子
- (4) $6+9=15$ ，答：夠，多 15 張椅子

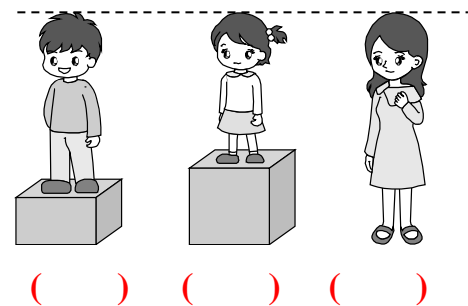
9. 下面哪一個鐘面上是 12 點半？



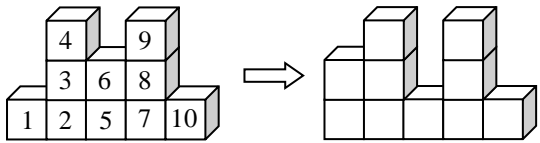
二、填充題，共 14 題，每題 4 分。

10. 下面三個人中，誰的身高最矮？

請在()中打勾。



11. 弟弟只移動了一塊積木，他移動了()號積木。



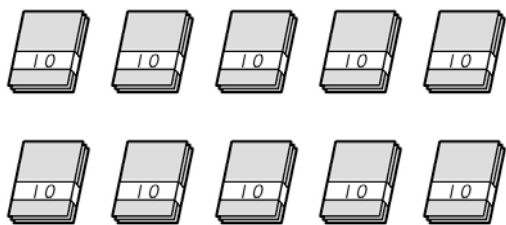
12. 姐姐原有 7 元，爸爸給她 18 元後，她現在有 25 元。

妹妹原有 18 元，爸爸給她 7 元後，她現在有()元。

13. 填填看看：

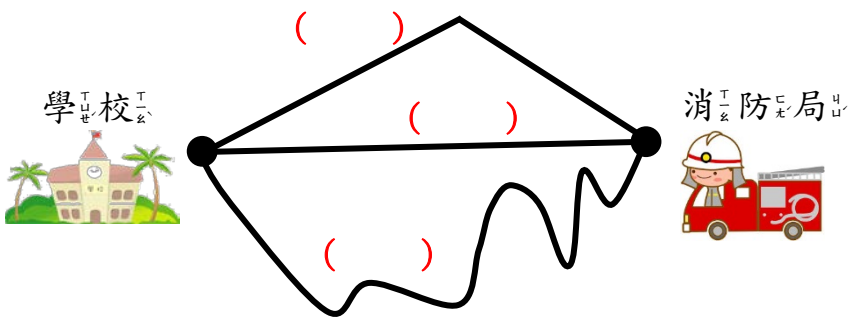
7 → 17 → () → 37 → 47。

14. 一疊色紙有 10 張，下圖中一共有()張色紙。




15. 學校到消防局，哪一條路最近？

請在()中打✓。



16. 一盤草莓有 2 顆，下圖中一共有()顆草莓。



17. 媽媽排隊等投票，她排在第 42 個，


她前面有()個人排隊等投票。

18. 「17 可以分成 9 和 8」，

「11 可以分成 4 和 7」，

「12 可以分成 5 和()」。

19. 下圖中排在第()個。



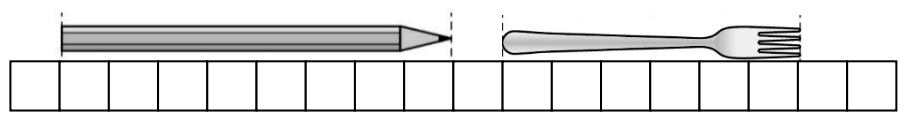
20. 桌上有 3 本書，參考書比漫畫書厚，

故事書比參考書厚。請問哪本書最厚？圈圈看看。(參考書，漫畫書，故事書)

21. 班上有 8 個女學生，15 個男學生，

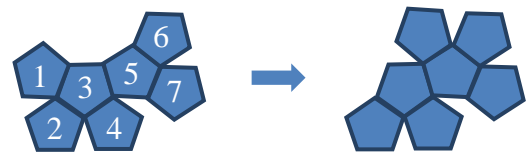
全班共有()個學生。

22. 鉛筆的長度比叉子的長度多()個。



23. 妹妹只移動了一塊圖形板，

她移動了()號圖形板。



三、應用題，共 2 題，每題 4 分。

把做法用算式記錄下來，並寫出答案。

24. 阿光有 8 顆彈珠，丁丁又送給他 8 顆彈珠，現在阿光有多少顆彈珠？

算式：() □ () = ()

答：阿光有()顆彈珠。

25. 姐姐有 5 顆糖果，妹妹有 9 顆糖果，姐姐比妹妹少幾顆？

算式：() □ () = ()

答：少()顆。

