

學校：

班級：

座號：

姓名：

一、選擇題，共 9 題，每題 4 分。





※請在正確選項前打勾，並請畫記清楚，不要超過格子。



範例：下列哪一個選項是這份考卷正確的答案方法？



(1) 打勾勾 (2) 寫數字

(3) 畫圈圈 (4) 畫叉叉

1. 下面哪一個物品最貴？

			
65元	56元	70元	49元

(1)  (2) 

(3)  (4) 

2. 下面哪一個算式的答案正確？

(1) $7+8=12$ (2) $4+6=11$

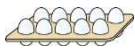
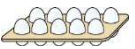
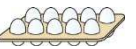
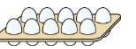
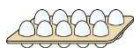
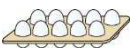
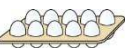

(3) $9+0=9$ (4) $16-9=8$

3. 媽媽做了 11 個布丁，吃掉 5 個後，還剩下多少個？

(1) 5 個 (2) 6 個

(3) 7 個 (4) 16 個

4. 一盒雞蛋有 10 顆，下面有幾顆雞蛋？

(1) 47 顆 (2) 64 顆

(3) 70 顆 (4) 74 顆

5. 花店老闆把 10 朵花綁成 1 束，38 朵花可以綁成幾束又幾朵？

(1) 1 束又 8 朵 (2) 3 束又 8 朵

(3) 3 束又 9 朵 (4) 4 束又 8 朵

6. 下面哪一個數的個位數字是 5？

<input type="checkbox"/> (1) 23	<input checked="" type="checkbox"/> (2) 45
<input type="checkbox"/> (3) 50	<input type="checkbox"/> (4) 51

7. 下面哪一個時刻最有可能吃晚餐？

(1) 晚上 6 點半

(2) 上午 6 點半

(3) 中午 12 點

(4) 下午 1 點半

8. 「公園裡有 6 張椅子，有 9 個人要坐，一個人坐一張椅子，請問椅子夠不夠？多或少幾張？」下面哪個算式和答案都正確？

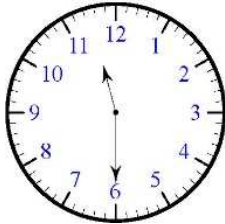
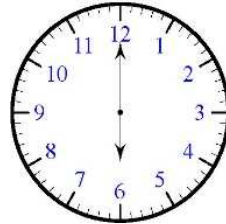
(1) $9-6=3$ ，答：夠，多 3 張椅子

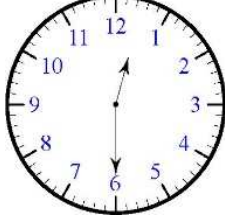
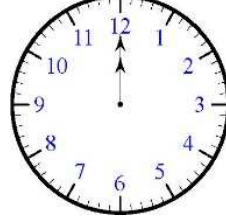
(2) $6-9=3$ ，答：不夠，少 3 張椅子

(3) $9-6=3$ ，答：不夠，少 3 張椅子

(4) $6+9=15$ ，答：夠，多 15 張椅子

9. 下面哪一個鐘面上的時刻是 12 點半？




(1)  (2) 

(3)  (4) 

二、填充題，共 14 題，每題 4 分。

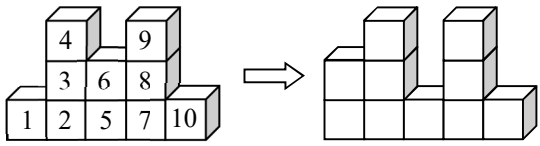
10. 下面三個人中，誰的身高最矮？

請在 () 中打勾。

		
()	(<input checked="" type="checkbox"/>)	()



11. 弟弟只移動了一塊積木，他移動了(6)號積木。

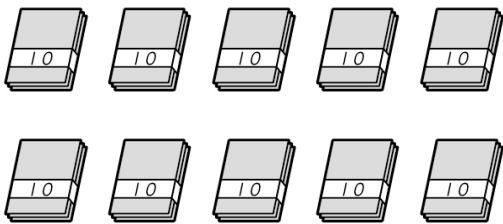


12. 姐姐原有 7 元，爸爸給她 18 元後，她現在有 25 元。
妹妹原有 18 元，爸爸給她 7 元後，她現在有(25)元。

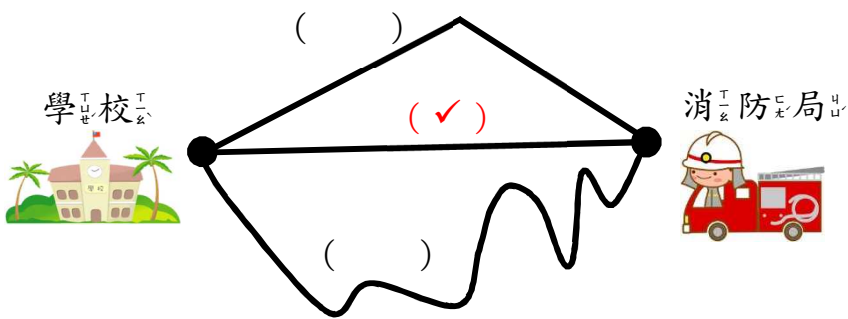
13. 填填看：

7 → 17 → (27) → 37 → 47。


14. 一疊色紙有 10 張，下圖中共有(100)張色紙。



15. 學校到消防局，哪一條路最近？請在()中打✓。




16. 一盤草莓有 2 顆，下圖中共有(24)顆草莓。



17. 媽媽排隊等投票，她排在第 42 個，她前面有(41)個人排隊等投票。

18. 「17 可以分成 9 和 8」，
「11 可以分成 4 和 7」，
「12 可以分成 5 和(7)」。

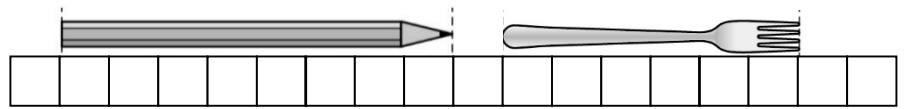
19. 下圖中排在第(46)個。



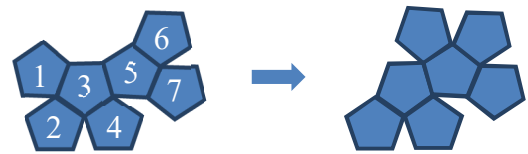
20. 桌上有 3 本書，參考書比漫畫書厚，故事書比參考書厚。請問哪本書最厚？圈圈看看。(參考書，漫畫書，故事書)

21. 班上有 8 個女學生，15 個男學生，全班共有(23)個學生。

22. 鉛筆的長度比叉子的長度多(2)個。



23. 妹妹只移動了一塊圖形板，她移動了(1)號圖形板。



三、應用題，共 2 題，每題 4 分。

把做法用算式記錄下來，並寫出答案。

24. 阿光有 8 顆彈珠，丁丁又送給他 8 顆彈珠，現在阿光有多少顆彈珠？

算式：(8) + (8) = (16)

答：阿光有(16)顆彈珠。

25. 姐姐有 5 顆糖果，妹妹有 9 顆糖果，姐姐比妹妹少幾顆？

算式：(9) - (5) = (4)

答：少(4)顆。

